

NOM :






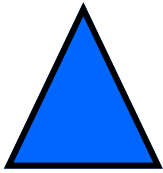
Prénom :

Date :

CM1 NOTE : / 20

GÉOMÉTRIE EXERCICES **CORRECTION** N° 10

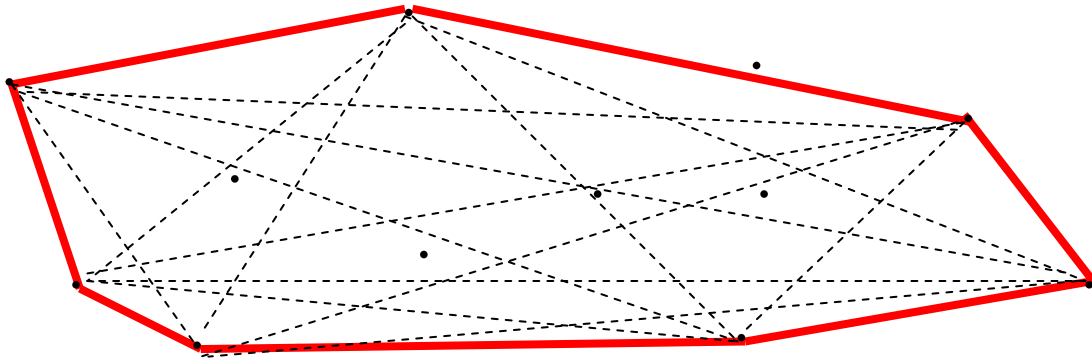
1– Parmi les polygones dessinés, colorie en bleu les polygones convexes et en vert les polygones concaves



ce n'est pas un polygone

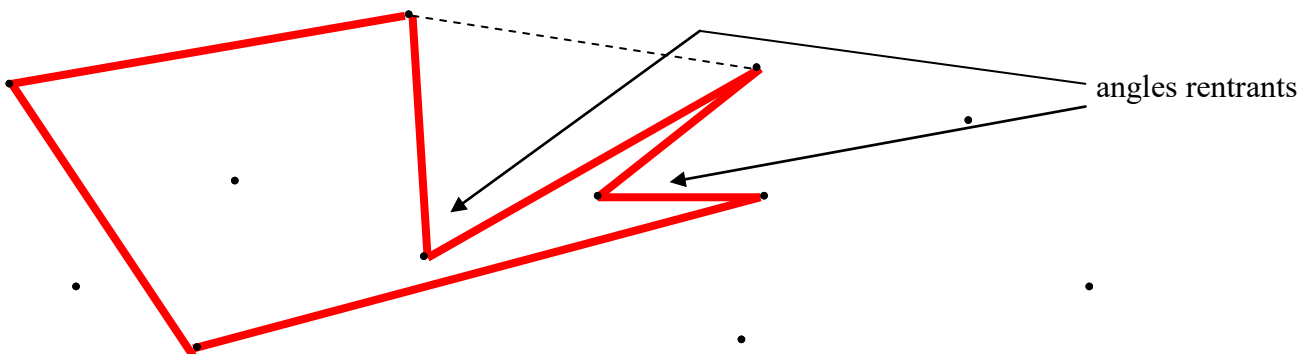
/6

2– En reliant 7 points (que tu choisis) entre eux, dessine un polygone convexe
exemple possible mais pas d'angle rentrant et les diagonales restent à l'intérieur



/7

3– En reliant 7 points (que tu choisis) entre eux, dessine un polygone concave
exemple possible mais au moins un angle rentrant et au moins une diagonale passe à l'extérieur



/7